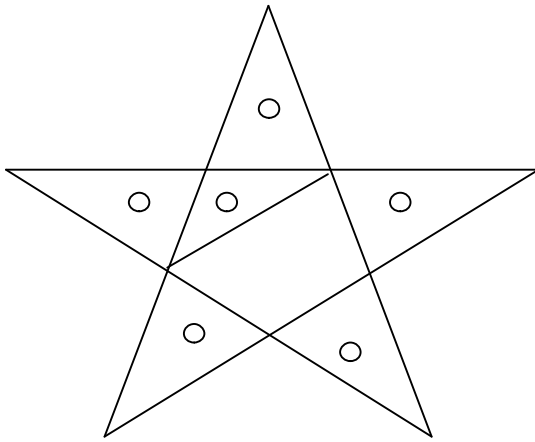


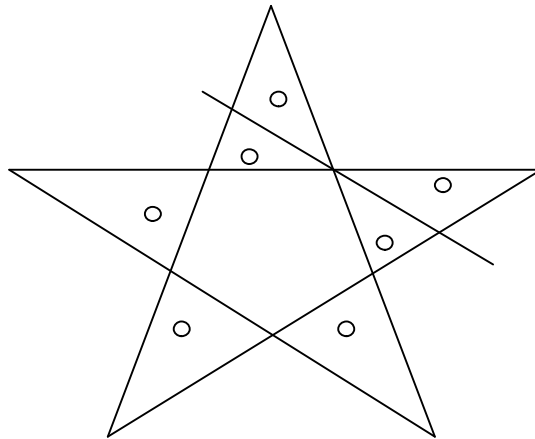
【問題1】「直線1本を足して、三角形を6個にしよう！」

<解答例>



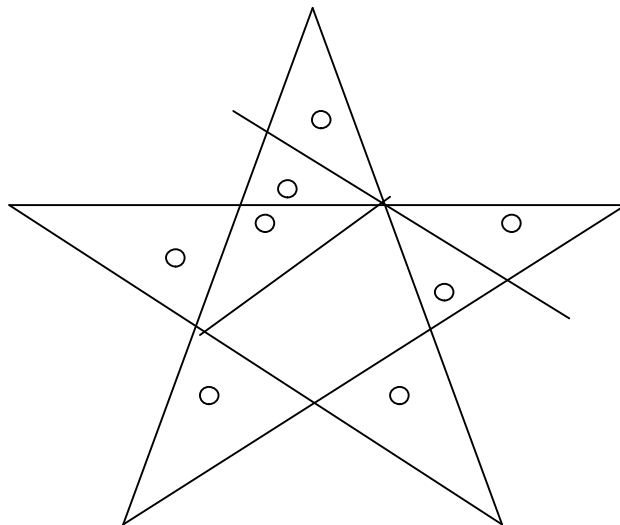
【問題2】「直線1本を足して、三角形を7個にしよう！」

<解答例>



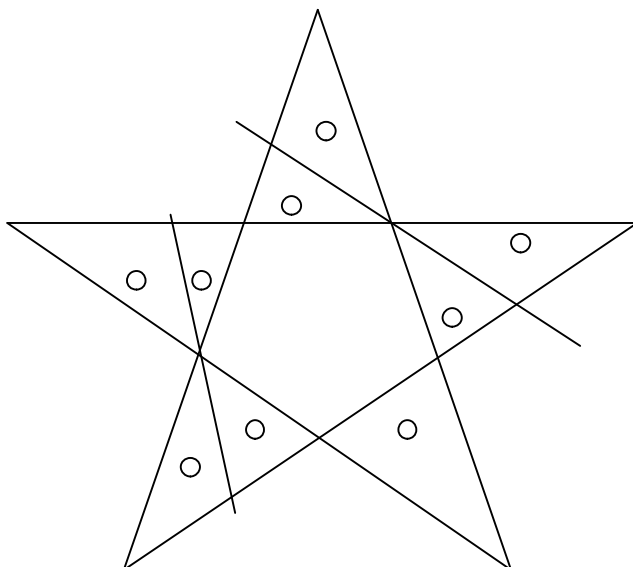
【問題3】「直線2本を足して、三角形を8個にしよう！」

<解答例>



【問題4】 「直線2本を足して、三角形を9個にしよう！」

< 解答例 >



【最難関】 「直線2本を足して、三角形を10個にしよう！」

< 解答例 >

